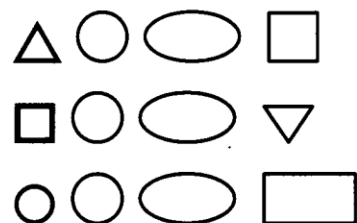
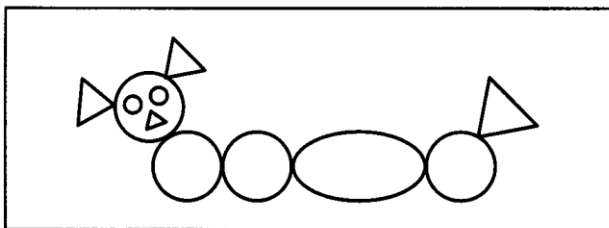
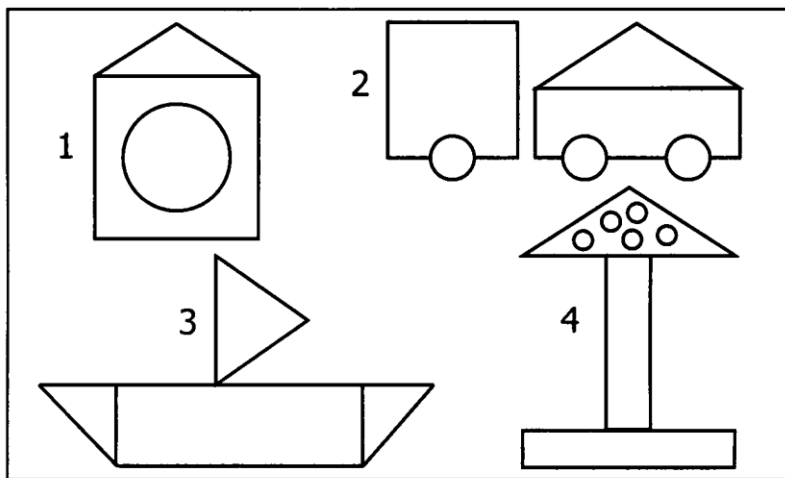
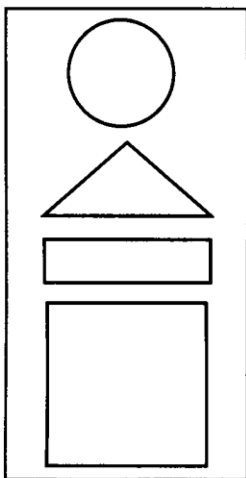


## СОСТАВ ПРЕДМЕТОВ

1. Из какой группы геометрических фигур составлен рисунок?



2. Какой предмет состоит из этих геометрических фигур? (Размер фигур может изменяться.)



3\*. Каких фигур не хватает, чтобы клумбы были одинаковые?

